

Школьная олимпиада по технологии
2018-2019 учебный год
6 класс
Обслуживающий труд
Критерии оценки

Всего 19 / 145

Общее время выполнения работы – 45 мин.

За полностью выполненное задание дается 2 балла; если в задании с выбором нескольких правильных ответов допущена одна ошибка – 1 балл; более одной ошибки – 0 баллов.

1. Отметьте знаком « + » правильные ответы

Первичная обработка овощей складывается из: *2*

- а) сортировки +
- б) очистки +
- в) варки
- г) мойки +
- д) нарезки +
- е) обжаривания

Количество баллов - 2

2. Отметьте знаком « + » правильные ответы

Какие продукты можно использовать для приготовления овощных салатов: *2*

- а) капуста +
- б) морковь +
- в) колбаса
- г) помидоры +
- д) яйца
- е) укроп +

Количество баллов - 2

3. Отметьте знаком « + » правильные ответы

Какие существуют виды приводов швейной машины: *2*

- а) ручные +
- б) ножные +
- в) гидравлические
- г) электрические +

Количество баллов - 2

4. Отметьте знаком « + » правильный ответ

Разутюживание - это: *0*

- + а) удаление заминов на ткани и деталях изделия

б) отгибание припусков шва на одну сторону и закрепление их в таком положении

в) уменьшение толщины шва, сгиба или края детали

✓ г) складывание припусков шва на противоположные стороны и закрепление их в этом положении

Количество баллов - 2

5. Отметьте знаком « + » правильные ответы

Перевод выкройки на ткань осуществляется при помощи: 2

а) смёточных стежков

б) копировальных стежков

в) резца

г) портновского мела

д) косых стежков

Количество баллов - 2

6. Отметьте знаком « + » правильные ответы

Ширина ткани - это: 2

а) расстояние, равное длине уточной нити

† б) расстояние от кромки до кромки

в) расстояние, равное длине основной нити

Количество баллов - 2 2

7. Отметьте знаком « + » правильный ответ

Прибавка - это:



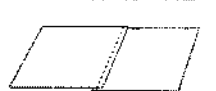


а) величина, необходимая при обработке изделия машинными швами, выраженная в сантиметрах, и учитываемая при раскрое

† б) величина, прибавляемая к размеру мерки на свободное облегание одежды

Количество баллов - 2

Практическая работа: 58

К каждому графическому изображению шва подберите верное название:

1.		А	Накладной с открытыми срезами.
2.		Б	Накладной с закрытыми срезами.
3.		В	Стачной вразутюжку.
4.		Г	Вподгибку с закрытым срезом.
5.		Д	Стачной взаутюжку.

Количество баллов — 5

- 1 - В ✓
- 2 - Д ✓
- 3 - А ✓
- 4 - Б ✓
- 5 - Г ✓

Всего 210 / 2005

Школьная олимпиада по технологии
2018-2019 учебный год
7 класс
Обслуживающий труд
Критерии оценки

Общее время выполнения работы – 45 мин.

Максимальное количество баллов – 21 (по 1 баллу за каждый вопрос). Задание считается выполненным, если в нём не допущено ни одной ошибки. Наличие лишнего ответа также считается ошибкой.

1. Отметьте знаком « + » правильный ответ

Размер женских юбок определяется: 2

- а) по обхвату шеи
- б) по обхвату груди
- + в) по обхвату бёдер
- г) по росту
- * д) по обхвату талии

Количество баллов - 1

2. Отметьте знаком « + » правильные ответы

При расчёте суммы вытачек на юбке учитываются мерки: 2

- а) Сг; б) Ди; в) Сг; г) Сб; д) Оп

Количество баллов - 1

3. Отметьте знаком « + » правильный ответ

Длинный желобок машинной иглы служит: 2

- + а) для заправки верхней нити
- б) для предохранения верхней нити от перетирания
- в) для образования петли

Количество баллов - 1

4. Отметьте знаком « + » правильные ответы

Какие инструменты необходимы для выполнения ручных работ: 4

- + а) ручные иглы
- + б) игольницы
- в) швейная машина
- + г) ножницы
- + д) напёрсток

Количество баллов - 1

5. Отметьте знаком « + » правильный ответ

Какой стежок используется для обмётывания срезов: 1

- а) шов "вперёд иголкой"
- б) "тамбурный"
- + в) "петельный"
- г) шов "назад иголкой"

Количество баллов - 1

6. Отметьте знаком « + » правильные ответы

Какие существуют виды приводов швейной машины: 1

- + а) ручные
- + б) ножные
- в) гидравлические
- + г) электрические

Количество баллов - 1

7. Отметьте знаком « + » правильный ответ 1

Винт в шпульном колпачке нужен:

- а) для регулирования натяжения верхней нити
- + б) для регулирования натяжения нижней нити
- в) для соединения деталей челнока в единое целое

Количество баллов - 1

8. Отметьте знаком « + » правильные ответы

Какие мерки необходимы для построения чертежа фартука: 0

- + а) Ст
- б) Сб
- ~~в) Сг~~
- + г) Ди

Количество баллов - 1

9. Отметьте знаком « + » правильные ответы

Какие продукты можно использовать для приготовления овощных салатов: 1

- + а) капуста
- + б) морковь
- в) колбаса
- + г) помидоры
- д) яйца
- + е) укроп

Количество баллов - 1

10. Отметьте знаком « + » правильные ответы

Первичная обработка овощей складывается из: 1

- + а) сортировки
- + б) очистки
- в) варки
- + г) мойки
- + д) нарезки
- е) обжаривания

Количество баллов - 1

11. Отметьте знаком « + » правильные ответы

Какие мерки необходимы для построения чертежа прямой юбки: 1

- + а) Ст + г) Ди
- б) Сг + д) Дтс
- + в) Сб

Количество баллов - 1

12. Какие продукты необходимы для приготовления молочной каши: 1

- а) молоко
- б) *крупы*.....
- в) *сахар*.....
- г) *масло*.....
- д) *соль*.....

Количество баллов - 1

13. Отметьте знаком « + » правильные ответы
Кисломолочными продуктами являются: 1

- а) сливки
- + б) кефир
- + в) творог
- г) мороженое
- + д) сметана

Количество баллов - 1

14. Отметьте знаком « + » правильный ответ
Как заутюживаются выточки на юбке: 1

- + а) к середине
- б) в сторону боковых срезов

Количество баллов - 1

15. Отметьте знаком « + » правильные ответы

Какие инструменты необходимы для выполнения вышивки: 1

- + а) иглы ручные
- + б) ножницы
- в) молнии
- + г) напёрсток
- + д) пяльца
- + е) пуговицы
- + ж) игольница

Количество баллов - 1

16. К регуляторам электрической швейной машины относятся: 1

- а) регулятор натяжения верхней нити
- б) *регулятор натяжения нижней нити*
- в) *регулятор длины стежка (выж)*
- г) *регулятор длины стежка*

Количество баллов - 1

Практическая работа: 55

Ты с подружками идёшь на праздник. Какие модели юбок ты бы им предложила?
Нарисуй их (не менее 5).

Количество баллов - 5

Солодова К. Г. К.

Всего 215 /
198

Школьная олимпиада по технологии
2018-2019 учебный год
7 класс
Обслуживающий труд
Критерии оценки

Общее время выполнения работы – 45 мин.

Максимальное количество баллов – 21 (по 1 баллу за каждый вопрос). Задание считается выполненным, если в нём не допущено ни одной ошибки. Наличие лишнего ответа также считается ошибкой.

1. Отметьте знаком « + » правильный ответ 1

Размер женских юбок определяется:

- а) по обхвату шеи
- б) по обхвату груди
- в) по обхвату бёдер
- г) по росту
- д) по обхвату талии

Количество баллов - 1

2. Отметьте знаком « + » правильные ответы

При расчёте суммы вытачек на юбке учитываются мерки: 1

- а) Ст; б) Ди; в) Ст; г) Сб; д) Оп

Количество баллов - 1

3. Отметьте знаком « + » правильный ответ

Длинный желобок машинной иглы служит: 1

- а) для заправки верхней нити
- б) для предохранения верхней нити от перетирания
- в) для образования петли

Количество баллов - 1

4. Отметьте знаком « + » правильные ответы

Какие инструменты необходимы для выполнения ручных работ: 1

- а) ручные иглы
- б) игольницы
- в) швейная машина
- г) ножницы
- д) напёрсток

Количество баллов - 1

5. Отметьте знаком « + » правильный ответ

Какой стежок используется для обмётывания срезов: 1

- а) шов "вперёд иголкой"
- б) "тамбурный"
- в) "петельный"
- г) шов "назад иголкой"

Количество баллов - 1

6. Отметьте знаком « + » правильные ответы

Какие существуют виды приводов швейной машины: 1

- + а) ручные
- + б) ножные
- в) гидравлические
- + г) электрические

Количество баллов - 1

7. Отметьте знаком « + » правильный ответ 1

Винт в шульном колпачке нужен:

- а) для регулирования натяжения верхней нити
- + б) для регулирования натяжения нижней нити
- в) для соединения деталей челнока в единое целое

Количество баллов - 1

8. Отметьте знаком « + » правильные ответы

Какие мерки необходимы для построения чертежа фартука: 0

- ~~а) Ст~~ ✓
- + б) Сб
- ~~в) Сг~~
- + г) Ди

Количество баллов - 1

9. Отметьте знаком « + » правильные ответы

Какие продукты можно использовать для приготовления овощных салатов: /

- + а) капуста
- + б) морковь
- в) колбаса
- + г) помидоры
- д) яйца
- + е) укроп

Количество баллов - 1

10. Отметьте знаком « + » правильные ответы

Первичная обработка овощей складывается из: 0

- а) сортировки ✓
- + б) очистки
- в) варки
- + г) мойки
- д) нарезки ✓
- е) обжаривания

Количество баллов - 1

11. Отметьте знаком « + » правильные ответы

Какие мерки необходимы для построения чертежа прямой юбки: 1

- + а) Ст + г) Ди
- б) Сг + д) Дтс
- + в) Сб

Количество баллов - 1

12. Какие продукты необходимы для приготовления молочной каши: 1

- а) молоко
- б) *крупы*.....
- в) *сахар*.....
- г) *масло*.....
- д) *соль*.....

Количество баллов - 1

13. Отметьте знаком « + » правильные ответы
Кисломолочными продуктами являются: 1

- а) сливки
- + б) кефир
- + в) творог
- г) мороженое
- + д) сметана

Количество баллов - 1

14. Отметьте знаком « + » правильный ответ
Как заутюживаются выточки на юбке: 1

- + а) к середине
- б) в сторону боковых срезов

Количество баллов - 1

15. Отметьте знаком « + » правильные ответы

Какие инструменты необходимы для выполнения вышивки: 1

- ~~а)~~ иглы ручные
- + б) ножницы
- в) молнии
- + г) напёрсток
- + д) пяльца
- ~~е)~~ пуговицы
- + ж) игольница

Количество баллов - 1

16. К регуляторам электрической швейной машины относятся: 1

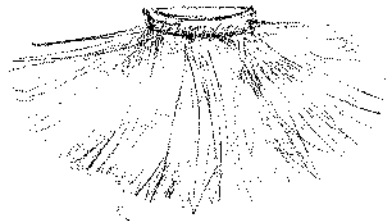
- а) регулятор натяжения верхней нити
- б) *регулятор натяжения нижней нити*
- в) *регулятор длины стежка*
- г) *регулятор ширины стежка (вида строчки)*

Количество баллов - 1

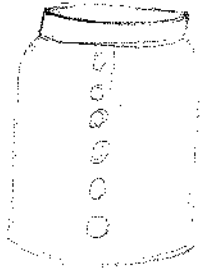
Практическая работа: 5

Ты с подружками идёшь на праздник. Какие модели юбок ты бы им предложила?
Нарисуй их (не менее 5).

Количество баллов - 5



Юбка-шорты



Юбка-шорты
с кнопками



Юбка-шорты
с бантом

Всего 210 / 185

Школьная олимпиада по технологии
2018-2019 учебный год
7 класс
Обслуживающий труд
Критерии оценки

Общее время выполнения работы – 45 мин.

Максимальное количество баллов – 21 (по 1 баллу за каждый вопрос). Задание считается выполненным, если в нём не допущено ни одной ошибки. Наличие лишнего ответа также считается ошибкой.

1. Отметьте знаком « + » правильный ответ

Размер женских юбок определяется: *A*

- а) по обхвату шеи
- б) по обхвату груди
- в) по обхвату бёдер ~~+~~
- г) по росту
- д) по обхвату талии

Количество баллов - 1

2. Отметьте знаком « + » правильные ответы

При расчёте суммы вытачек на юбке учитываются мерки: *0*

- а) Сг; б) Д_г; в) Сг; г) Сб; д) Оп

Количество баллов - 1

3. Отметьте знаком « + » правильный ответ *0*

Длинный желобок машинной иглы служит:

- а) для заправки верхней нити
- б) для предохранения верхней нити от перетирания
- в) для образования петли

Количество баллов - 1

4. Отметьте знаком « + » правильные ответы

Какие инструменты необходимы для выполнения ручных работ: *A*

- а) ручные иглы +
- б) игольницы +
- в) швейная машина
- г) ножницы +
- д) напёрсток +

Количество баллов - 1

5. Отметьте знаком « + » правильный ответ

Какой стежок используется для обмётывания срезов: *1*

- а) шов "вперёд иголкой"
- б) "тамбурный"
- в) "петельный" +
- г) шов "назад иголкой"

Количество баллов - 1

6. Отметьте знаком « + » правильные ответы

Какие существуют виды приводов швейной машины:

- а) ручные +
- б) ножные +
- в) гидравлические
- г) электрические +

Количество баллов - 1

7. Отметьте знаком « + » правильный ответ

Винт в шпульном колпачке нужен:

- а) для регулирования натяжения верхней нити
- б) для регулирования натяжения нижней нити +
- в) для соединения деталей челнока в единое целое

Количество баллов - 1

8. Отметьте знаком « + » правильные ответы

Какие мерки необходимы для построения чертежа фартука:

- а) Ст +
- б) Сб +
- в) Сг
- г) Ди +

Количество баллов - 1

9. Отметьте знаком « + » правильные ответы

Какие продукты можно использовать для приготовления овощных салатов:

- а) капуста +
- б) морковь +
- в) колбаса
- г) помидоры +
- д) яйца
- е) укроп +

Количество баллов - 1

10. Отметьте знаком « + » правильные ответы

Первичная обработка овощей складывается из:

- а) сортировки +
- б) очистки +
- в) варки
- г) мойки +
- д) нарезки +
- е) обжаривания

Количество баллов - 1

11. Отметьте знаком « + » правильные ответы

Какие мерки необходимы для построения чертежа прямой юбки:

- а) Ст + г) Ди +
- б) Сг д) Дтс +
- в) Сб +

Количество баллов - 1

12. Какие продукты необходимы для приготовления молочной каши: 1

- а) молоко
- б) *масло*.....
- в) *сахар*.....
- г) *соль*.....
- д) *крупы*.....

Количество баллов - 1

13. Отметьте знаком « + » правильные ответы 1

Кисломолочными продуктами являются:

- а) сливки
- б) кефир +
- в) творог +
- г) мороженое
- д) сметана +

Количество баллов - 1

14. Отметьте знаком « + » правильный ответ 1

Как заутюживаются выточки на юбке:

- а) к середине +
- б) в сторону боковых срезов

Количество баллов - 1

15. Отметьте знаком « + » правильные ответы

Какие инструменты необходимы для выполнения вышивки: 1

- а) иглы ручные +
- б) ножницы +
- в) молнии
- г) напёрсток +
- д) пяльца +
- е) пуговицы
- ж) игольница +

Количество баллов - 1

16. К регуляторам электрической швейной машины относятся: 0

- а) регулятор натяжения верхней нити
- б) *регулятор натяжения нижней нити*
- в) *регулятор*.....
- г)

Количество баллов - 1

Практическая работа: 55

Ты с подружками идёшь на праздник. Какие модели юбок ты бы им предложила? Нарисуй их (не менее 5).

Количество баллов - 5

Всего 405 / 325

Школьная олимпиада по технологии
2018-2019 учебный год
8 - 9 класс
Обслуживающий труд
Критерии оценки

Общее время выполнения работы – 45 мин.

За полностью выполненное задание дается 2 балла; если в задании с выбором нескольких правильных ответов допущена одна ошибка – 1 балл; более одной ошибки – 0 баллов.

1. Отметьте знаком « + » правильный ответ

Составление спецификации на изготавливаемое изделие является элементом: *д*

- + а) поисково-исследовательского этапа проектирования
- б) технологического этапа проектирования
- в) заключительного этапа проектирования

Количество баллов - 2

2. Отметьте знаком « + » правильные ответы *д*

Каши можно варить:

- + а) на молоке
- + б) на бульоне
- + в) на воде
- г) на киселе

Количество баллов - 2

3. Отметьте знаком « + » правильный ответ

Счётчик электрической энергии измеряет: *д*

- а) силу тока
- б) напряжение сети
- в) мощность потребляемой электроэнергии
- + г) расход электроэнергии за определённое время

Количество баллов - 2

4. Отметьте знаком « + » правильные ответы

При пошиве постельного белья чаще всего применяются швы: *0*

- + а) стачной
- б) обтачной
- в) запошивочный ✓
- г) двойной ✓

Количество баллов - 2

5. Отметьте знаком « + » правильный ответ

От чего в большей мере зависит успешность деловой карьеры: 0

- а) от уровня образования
- б) от случая
- в) от совпадения профессионально важных качеств личности требованиям профессии
- г) от устремлённости

Количество баллов - 2

6. Отметьте знаком « + » правильный ответ

Что необходимо сделать с пшеном перед варкой, чтобы удалить горечь? 2

- а) промыть холодной водой
- б) промыть горячей водой
- в) ошпарить кипятком

Количество баллов - 2

7. Отметьте знаком « + » правильный ответ

Веществами, выполняющими функцию биологических регуляторов жизненных процессов в организме человека, являются 2

- а) углеводы
- б) белки
- в) жиры
- г) минеральные соли
- д) витамины

Количество баллов - 2

8. Отметьте знаком « + » правильный ответ

Самопознание характеризуется: 2

- а) пониманием другого
- б) формированием образа "Я"
- в) образованностью
- г) стремлением к объективности

Количество баллов - 2

9. Отметьте знаком « + » правильный ответ

Ритмически повторяющийся элемент или несколько элементов, из которых складывается орнамент: 0

- а) мотив
- б) раппорт ✓
- в) узор
- г) эскиз
- д) рисунок

Количество баллов - 2

10. Отметьте знаком « + » правильный ответ

Винт в шпульном колпачке нужен: *2*

- а) для регулирования натяжения верхней нити
- б) для регулирования натяжения нижней нити
- в) для соединения деталей челнока в единое целое

Количество баллов - 2

11. Отметьте знаком « + » правильный ответ

Украшение из ткани в верхней части дверных и оконных проёмов называется: *2*

- а) штора
- б) карниз
- в) ламбрекен
- г) занавеска
- д) ширма

Количество баллов - 2

12. Отметьте знаком « + » правильные ответы

К гигиеническим свойствам ткани относятся? *2*

- а) гигроскопичность
- б) воздухопроницаемость
- в) износостойкость
- г) пылеёмкость
- д) драпируемость
- е) теплозащитные свойства
- ж) электризуемость

Количество баллов - 2

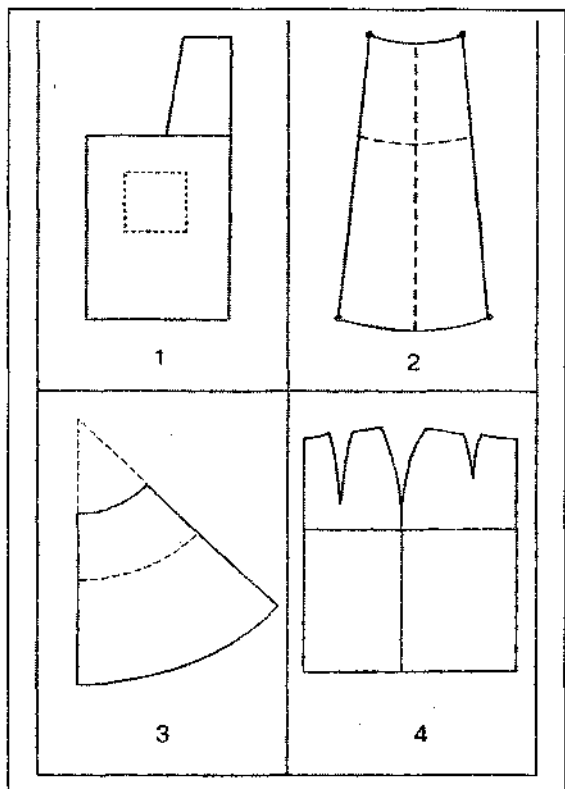
13. Отметьте знаком « + » правильные ответы

При обработке нижнего среза изделия применяют швы: *2*

- а) стачной
- б) обтачной
- в) вподгибку с закрытым срезом
- г) двойной
- д) вподгибку с открытым срезом

Количество баллов - 2

14. Установите по чертежу основы соответствующее ему название швейного изделия *2*



- 1- *фартук*
- 2- *каплевидная юбка*
- 3- коническая юбка
- 4- *платье юбка*

Количество баллов - 2

1 б) Отметьте знаком « + » правильный ответ *а*

Направление долевой нити учитывают:

- а) для наиболее экономного раскроя ткани
- б) чтобы избежать вытягивания изделия в процессе носки
- в) чтобы изделие меньше сминалось

Количество баллов - 2

Творческое задание: 8

"Семейная экономика"

К терминам подберите их описание:

№ п/п	Термины	Усл. обозн.	Описание
1.	Цена	А	Финансовый план доходов и расходов на определенный срок
2.	Кредит	Б	Деятельность в целях получения прибыли
3.	Бизнес	В	Временная передача денег в залог под проценты
4.	Деньги	Г	Взимаемый государством платеж
5.	Бюджет	Д	Место для торговли на площади
6.	Облигация	Е	Денежное выражение стоимости товара
7.	Базар	Ж	Предоставление товаров или денег в долг
8.	Труд	З	Особый товар, выполняющий роль всеобщего эквивалента при обмене товаров
9.	Налог	И	Процесс сознательной деятельности людей
10.	Ссуда	К	Ценная бумага, дающая право получать доход в виде фиксированного процента

Максимальное количество баллов – 10

1. - E ✓
 2. - B ✓
 3. - B ✓
 4. - G ✓
 5. - D ✓
 6. - M
 7. - Z ✓
 8. - H ✓
 9. - P ✓
 10. - K

Минская Лука

8к

Всего 405 / 318'

Школьная олимпиада по технологии
2018-2019 учебный год
8 - 9 класс
Обслуживающий труд
Критерии оценки

Общее время выполнения работы – 45 мин.

За полностью выполненное задание дается 2 балла; если в задании с выбором нескольких правильных ответов допущена одна ошибка – 1 балл; более одной ошибки – 0 баллов.

1. Отметьте знаком « + » правильный ответ

Составление спецификации на изготавливаемое изделие является элементом: *h*

- + а) поисково-исследовательского этапа проектирования
- б) технологического этапа проектирования
- в) заключительного этапа проектирования

Количество баллов - 2

2. Отметьте знаком « + » правильные ответы *2*

Каши можно варить:

- + а) на молоке
- + б) на бульоне
- + в) на воде
- г) на киселе

Количество баллов - 2

3. Отметьте знаком « + » правильный ответ

Счётчик электрической энергии измеряет: *2*

- а) силу тока
- б) напряжение сети
- в) мощность потребляемой электроэнергии
- + г) расход электроэнергии за определённое время

Количество баллов - 2

4. Отметьте знаком « + » правильные ответы

При пошиве постельного белья чаще всего применяются швы: *p*

- + а) стачной
- б) обтачной
- в) запошивочный
- г) двойной

Количество баллов - 2

5. Отметьте знаком « + » правильный ответ

От чего в большей мере зависит успешность деловой карьеры: 1

- ~~а) от уровня образования~~
- б) от случая
- в) от совпадения профессионально важных качеств личности требованиям профессии
- г) от устремлённости

Количество баллов - 2

6. Отметьте знаком « + » правильный ответ

Что необходимо сделать с пшеном перед варкой, чтобы удалить горечь? 2

- а) промыть холодной водой
- б) промыть горячей водой
- в) ошпарить кипятком

Количество баллов - 2

7. Отметьте знаком « + » правильный ответ

Веществами, выполняющими функцию биологических регуляторов жизненных процессов в организме человека, являются 0

- а) углеводы
- б) белки
- в) жиры
- г) минеральные соли
- д) витамины ✓

Количество баллов - 2

8. Отметьте знаком « + » правильный ответ 2

Самопознание характеризуется: 0

- а) пониманием другого
- б) формированием образа "Я"
- в) образованностью
- г) стремлением к объективности

Количество баллов - 2

9. Отметьте знаком « + » правильный ответ

Ритмически повторяющийся элемент или несколько элементов, из которых складывается орнамент: 0

- а) мотив
- б) раппорт ✓
- в) узор
- г) эскиз
- д) рисунок

Количество баллов - 2

10. Отметьте знаком « + » правильный ответ

Винт в шпульном колпачке нужен: 2

- а) для регулирования натяжения верхней нити
- + б) для регулирования натяжения нижней нити
- в) для соединения деталей челнока в единое целое

Количество баллов - 2

11. Отметьте знаком « + » правильный ответ

Украшение из ткани в верхней части дверных и оконных проёмов называется: 2

- а) штора
- б) карниз
- + в) ламбрекен
- г) занавеска
- д) ширма

Количество баллов - 2

12. Отметьте знаком « + » правильные ответы

К гигиеническим свойствам ткани относятся? 2

- + а) гигроскопичность
- + б) воздухопроницаемость
- в) износостойкость
- г) пылеёмкость
- д) драпируемость
- е) теплозащитные свойства ✓
- + ж) электризуемость

Количество баллов - 2

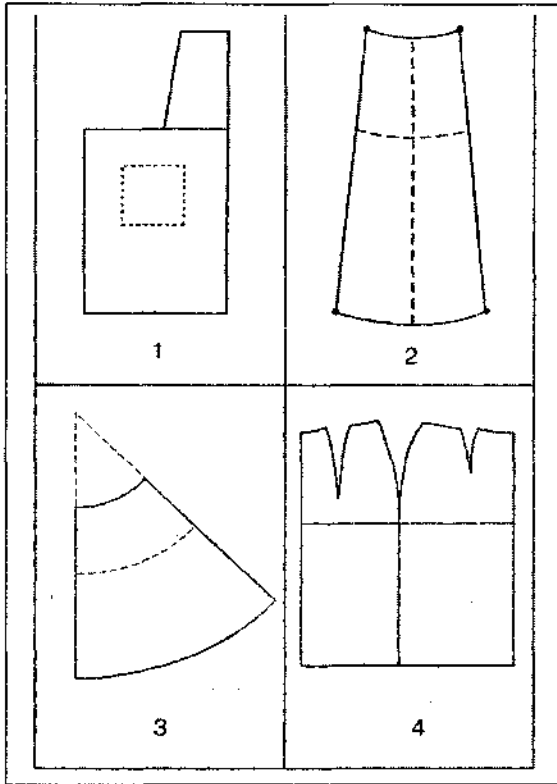
13. Отметьте знаком « + » правильные ответы

При обработке нижнего среза изделия применяют швы: 2

- а) стачной
- б) обтачной
- + в) вподгибку с закрытым срезом
- г) двойной
- + д) вподгибку с открытым срезом

Количество баллов - 2

14. Установите по чертежу основы соответствующее ему название швейного изделия 2



- 1- *партия*.....
 2- *книжная сетка*.....
 3- коническая юбка
 4- *филейная юбка с волочками*

Количество баллов - 2

11. Отметьте знаком « + » правильный ответ

Направление долевой нити учитывают: *а*

- а) для наиболее экономного раскроя ткани
 + б) чтобы избежать вытягивания изделия в процессе носки
 в) чтобы изделие меньше сминалось

Количество баллов - 2

Творческое задание:

"Семейная экономика"

К терминам подберите их описание:

№ п/п	Термины	Усл. обозн.	Описание
1.	Цена	А	Финансовый план доходов и расходов на определенный срок
2.	Кредит	Б	Деятельность в целях получения прибыли
3.	Бизнес	В	Временная передача денег в залог под проценты
4.	Деньги	Г	Взимаемый государством платеж
5.	Бюджет	Д	Место для торговли на площади
6.	Облигация	Е	Денежное выражение стоимости товара
7.	Базар	Ж	Предоставление товаров или денег в долг
8.	Труд	З	Особый товар, выполняющий роль всеобщего эквивалента при обмене товаров
9.	Налог	И	Процесс сознательной деятельности людей
10.	Ссуда	К	Ценная бумага, дающая право получать доход в виде фиксированного процента

Максимальное количество баллов – 10

1. E ✓
 2. B ✓
 3. B ✓
 4. B ✓
 5. A ✓
 6. M ✓
 7. B ✓
 8. И ✓
 9. F ✓
 10. K ✓